

EXAMEN MIDDELBAAR ALGEMEEN VOORTGEZET ONDERWIJS IN 1985

MAVO-C

Donderdag 13 juni, 9.00–11.00 uur

NATUURKUNDE

**Dit examen bestaat uit elf opgaven
Bijlage: 1 antwoordblad**



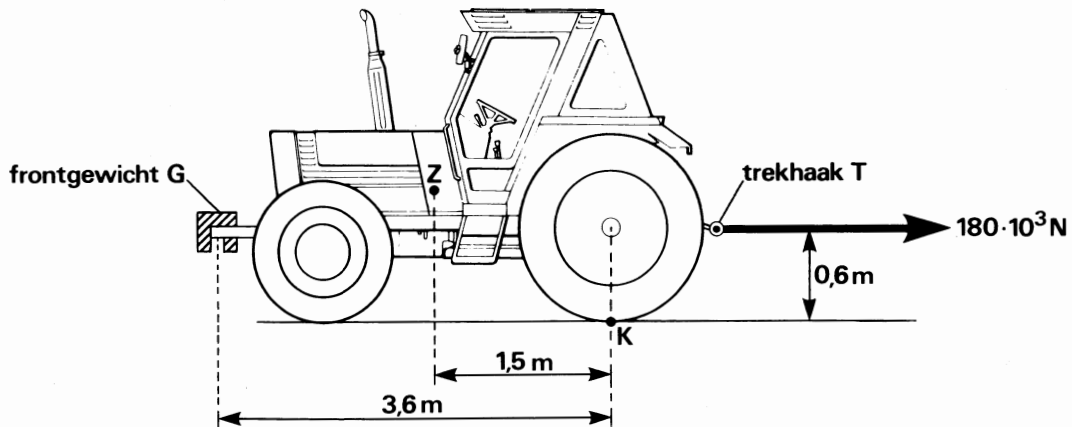
Waar nodig mag bij de opgaven gebruik worden gemaakt van het gegeven dat de valversnelling $g = 10 \text{ m/s}^2$.

1. DE TRACTOR.

Achteraan een tractor bevindt zich een trekhaak T. Als hier een grote kracht op werkt, kan de tractor kantelen om punt K.

Om dat te voorkomen, worden in zo'n situatie voorop enkele frontgewichten G geplaatst (zie figuur 1).

Aan de tractor wordt nu een ploeg bevestigd. De kracht die de ploeg op de trekhaak uitoefent, is $180 \cdot 10^3 \text{ N}$ en is horizontaal gericht.



figuur 1

De volgende gegevens zijn bekend:

- massa van de tractor (zonder frontgewichten): $6 \cdot 10^3 \text{ kg}$
- zwaartepunt van deze tractor: Z
- massa van één frontgewicht: 40 kg
- de kracht die in verticale richting op de trekhaak wordt uitgeoefend, is verwaarloosbaar.
- voor de afmetingen en afstanden: zie figuur 1.


- a. 1. Bereken het moment dat de ploeg op de tractor uitoefent ten opzichte van punt K.
- a. 2. Bereken het moment dat de zwaartekracht op de tractor uitoefent ten opzichte van punt K.
- a. 3. Bereken hoeveel frontgewichten in deze situatie minimaal nodig zijn om te voorkomen dat de tractor kantelt.

2. BOTSSENDE AUTO

Als een auto frontaal (= met de voorkant) tegen een muur botst, treden zeer grote krachten op.

Dit komt omdat de auto in heel korte tijd tot stilstand komt.

De gevolgen van botsingen worden onderzocht. Men voorziet onbemande auto's van testapparatuur en laat deze frontaal tegen een zware muur botsen (zie figuur 2).



figuur 2

Bij zo'n botsing „komt veel energie vrij”.

Bij een botsingsproef gebruikt men een auto met een totale massa van 850 kg. De auto laat men met een snelheid van 15 m/s tegen de muur botsen.

a. Bereken de kinetische energie van de auto die bij deze proef tegen de muur botst.

De inzittenden van een auto zullen bij zo'n botsing naar voren schieten als ze geen veiligheidsgordels dragen.

b. Leg uit waarom de inzittenden bij een frontale botsing naar voren schieten.

Bij één van de uitgevoerde proeven liet men een auto met een snelheid van 15 m/s tegen een muur botsen.

De auto met een massa van 850 kg kwam in 0,12 s tot stilstand.

De beweging tijdens de botsing mag als eenparig vertraagd worden beschouwd.

c. 1. Laat door berekening zien dat de vertraging tijdens de botsing 125 m/s^2 bedroeg.

c. 2. Bereken de kracht waarmee de auto tijdens de botsing werd afgeremd.

Misschien denk je dat dit absurd grote waarden zijn en dat 15 m/s een hoge snelheid is.

d. Bereken dan maar eens met hoeveel km/h een snelheid van 15 m/s overeen komt.



3. SNEEUW OP EEN PLAT DAK

Op een plat dak ligt een pak sneeuw van 30 cm dik.
 Het platte dak heeft een lengte van 20 meter en een breedte van 10 meter.
 De dichtheid van deze sneeuw bedraagt 250 kg/m^3 .

- a. 1. Bereken het volume van de sneeuw die op het dak ligt.
- a. 2. Bereken de kracht die het pak sneeuw op het dak uitoefent.
- b. Bereken de druk die het pak sneeuw op het dak uitoefent.

De zon gaat schijnen en een deel van de sneeuw smelt.
 Er ontstaat op het dak een laagje dat bestaat uit sneeuw en (smelt)water. Dit laagje is 10 cm dik.
 Er is geen sneeuw of water van het dak verdwenen omdat de afvoer van het dak nog verstopt is.
 Het water dat verdampt is, mag worden verwaarloosd.

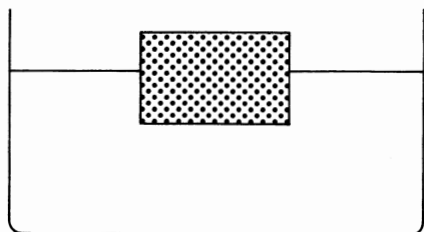
De kracht die het dak nu ondervindt, is

- A groter dan
- B even groot als
- C kleiner dan

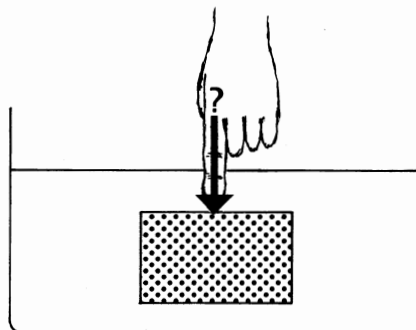
de berekende uitkomst bij vraag a. 2.

- c. Kies het juiste antwoord en licht je keuze toe.

4. Een blok hout drijft in een vloeistof (zie figuur 4.1).



figuur 4.1



figuur 4.2

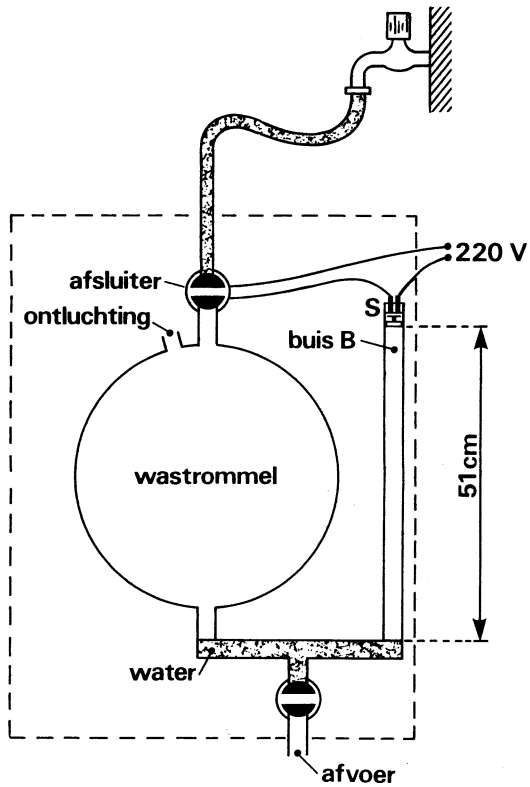
Het volume van het blok is $0,50 \text{ dm}^3$; het gewicht is $4,0 \text{ N}$.
 De vloeistof heeft een dichtheid van $1,3 \text{ kg/dm}^3$.

Als het blok zich *geheel* in de vloeistof bevindt, is de opwaartse kracht erop $6,5 \text{ N}$.

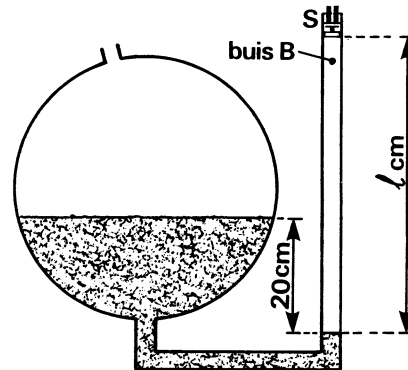
- a. Toon dit aan met behulp van een berekening.
- b. Bereken de kracht waarmee het blok omlaag geduwd moet worden om het geheel in de vloeistof te houden (zie figuur 4.2).

5. WASMACHINE

In figuur 5.1 is een wasmachine schematisch weergegeven.



figuur 5.1



figuur 5.2

- a. Waaraan kun je in figuur 5.1 zien dat de druk in de wastrommel gelijk is aan de druk in buis B?

In figuur 5.2 zie je een nog meer vereenvoudigde tekening van de wasmachine. Hierin is de situatie weergegeven dat de wasmachine met water is gevuld. De watertoevoer is afgesloten. De afsluiter wordt bediend door de schakelaar S. Schakelaar S werd ingedrukt toen de druk van de lucht in buis B groot genoeg was.

In figuur 5.2 is de druk van de lucht in buis B $10,2 \text{ N/cm}^2$.
De druk van de buitenlucht is $10,0 \text{ N/cm}^2$.
De temperatuur in buis B is constant gebleven.

- b. Bereken de lengte l van de luchtkolom in buis B in deze situatie.


Tijdens het wassen stijgt de temperatuur van het water en de lucht in buis B. Het water in buis B zakt tot hetzelfde niveau als in figuur 5.1.

Hieronder staan drie beweringen die betrekking hebben op de nu ontstane situatie. Je moet nagaan welke van deze beweringen de juiste is.

De druk in buis B is nu

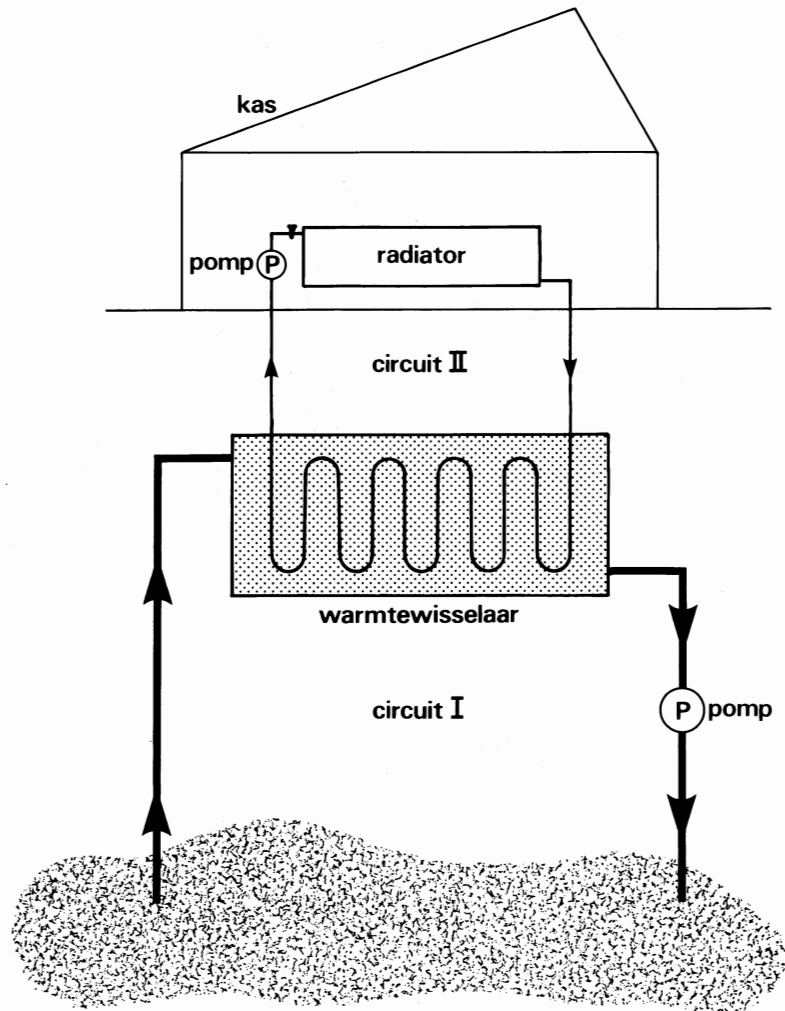
- A gelijk aan de druk van de buitenlucht, net als in de situatie van figuur 5.1.
- B kleiner dan $10,2 \text{ N/cm}^2$, omdat het volume van de lucht in buis B groter is geworden.
- C groter dan $10,2 \text{ N/cm}^2$; dit kun je zien aan het hoogteverschil tussen de waterniveaus dat groter dan 20 cm is geworden.

- c. Welke bewering is juist: A, B of C?



6. AARDWARMTE

Men kan broeikassen verwarmen met behulp van aardwarmte. Daarbij wordt water met een lage temperatuur diep de grond ingepompt; daar wordt het door de aarde verwarmd en vervolgens gaat het water naar een warmtewisselaar (zie figuur 6, circuit I). In de warmtewisselaar draagt het water van circuit I, warmte over aan het water van circuit II. Dit water stroomt van de warmtewisselaar naar de kas en terug en zorgt voor de verwarming van de kas.



figuur 6

- a. Wanneer vindt de warmteoverdracht in de warmtewisselaar het beste plaats: als de buis in die wisselaar gemaakt is van koper of van plastic?
Kies het juiste antwoord en licht je keuze toe.

Op het antwoordblad is figuur 6 nogmaals getekend.

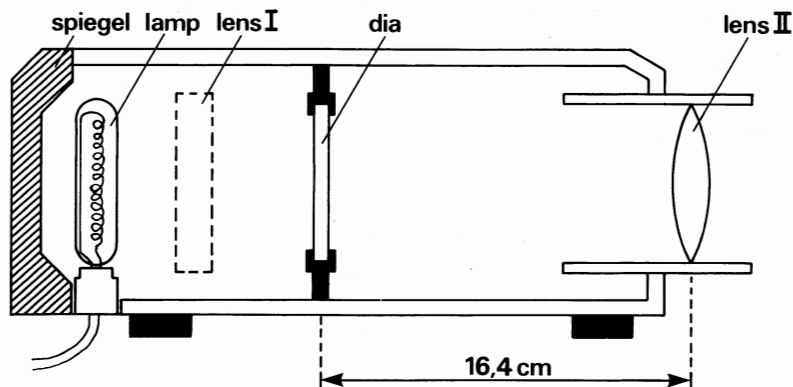
- b. Geef in figuur 6 op het antwoordblad aan welk gedeelte van circuit II het beste geïsoleerd moet zijn.

De temperatuur van het water dat de kas in gaat is $30\text{ }^{\circ}\text{C}$ hoger dan de temperatuur van het water dat de kas verlaat. De kas heeft op een winterdag $315\ 000\ \text{kJ}$ nodig voor verwarming.

De soortelijke warmte van water is $4,2\ \text{kJ/kg}\cdot\text{K}$.

- c. Bereken hoeveel kg heet water op die winterdag de kas binnen moet stromen om de benodigde energie te kunnen leveren.

7. Hieronder zie je in figuur 7 een diaprojector schematisch weergegeven.



figuur 7

Achter de lamp bevindt zich een spiegel.

a. Waarvoor dient die spiegel?

Tussen de lamp en de dia is een rechthoek gestippeld. Op deze plaats bevindt zich een lens (zie figuur 7; lens I).

Deze lens dient ervoor zoveel mogelijk licht op de dia te laten vallen.

b. Beredeneer of lens I een holle of een bolle lens is.

Op het projectiescherm ontstaat een scherp beeld.

Het projectiescherm staat op 8 m van lens II.

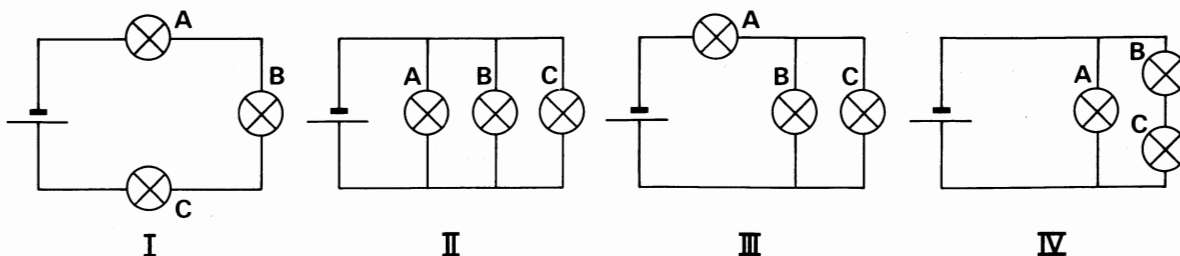
De afstand van de dia tot lens II bedraagt 16,4 cm.

c. Bereken de vergroting.

d. Bereken de brandpuntsafstand van lens II.

8. EEN SCHAKELING VAN LAMPJES

Drie lampjes kunnen op verschillende manieren aan elkaar geschakeld worden. In figuur 8 zijn de verschillende mogelijkheden getekend.




figuur 8

In de verschillende schakelingen draaien we óf lampje A los óf lampje B. Als je één van de lampjes losdraait, geldt voor de andere twee dat:

- Ze allebei blijven branden.
- De ene blijft branden en de andere uitgaat.
- Ze allebei uitgaan.

Je moet nagaan welke lampjes in de gegeven situaties niet branden. Daartoe is figuur 8 op het antwoordblad nogmaals afgedrukt.

- Geef in figuur 8 op het antwoordblad voor iedere schakeling aan, welke lampjes niet branden als óf lampje A óf lampje B is losgedraaid.



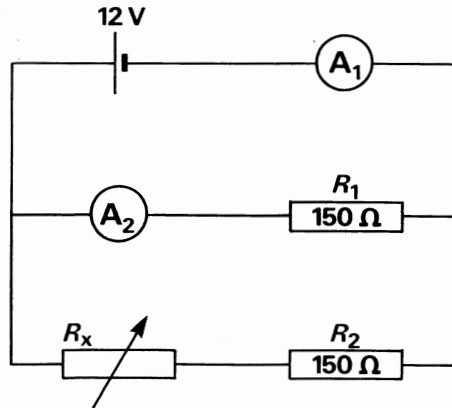
9. STERKERE ELEKTROMAGNEET

Tijdens een practicumles maak je een elektromagneet. Jouw magneet bestaat uit een aantal windingen van geïsoleerd koperdraad. Je sluit hem aan op een batterij van 1,5 V.

De magneet blijkt niet sterk genoeg te zijn.
Het aantal windingen kun je niet meer veranderen.

- Beschrijf twee manieren waarop je de elektromagneet sterker kunt maken.

10. In figuur 10.1 is het schema van een elektrische schakeling getekend.
Met deze opstelling willen we tijdens een practicum nagaan welke invloed een regelbare weerstand heeft op de stroomsterkte in een parallelschakeling.



figuur 10.1

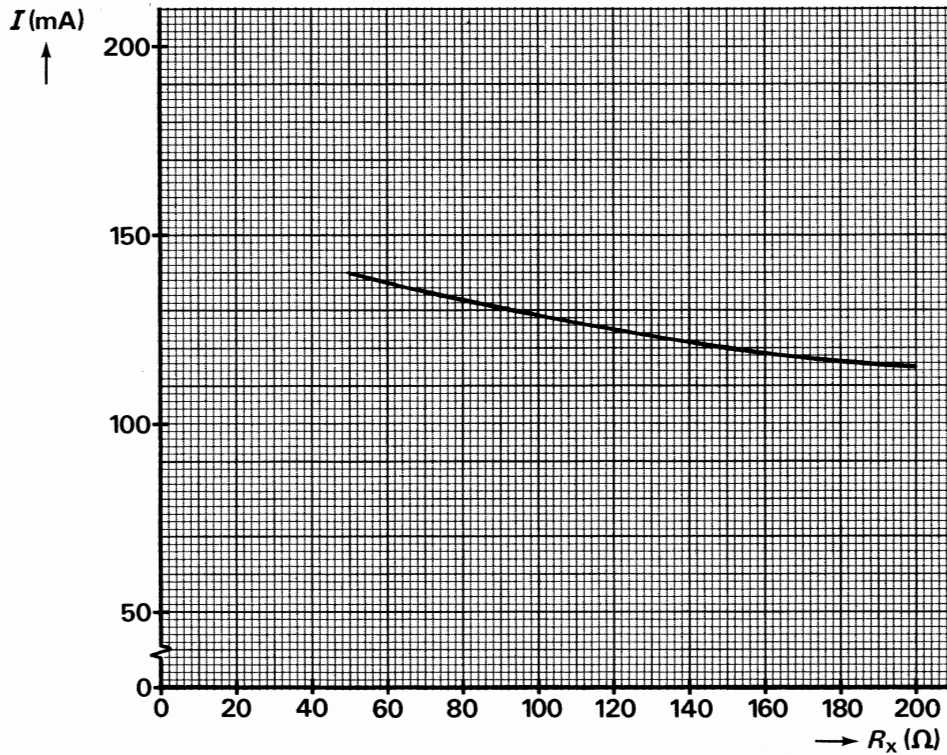
De schakeling bestaat uit:

- A_1 en A_2 : Stroommeters; de weerstand hiervan is te verwaarlozen.
- R_1 en R_2 : Weerstanden met een waarden van 150Ω .
- spanningsbron: Levert een constante spanning van 12 V.
- R_x : Regelbare weerstand; deze kan ingesteld worden op een waarde tussen 0 en 200Ω .

De regelbare weerstand R_x wordt ingesteld op 0Ω .

- Welke waarde geeft stroommeter A_2 aan?
- Bereken het vermogen dat weerstand R_1 dan opneemt.

We stellen de regelbare weerstand R_x achtereenvolgens in op verschillende waarden. Op stroommeter A_1 lezen we telkens de stroomsterkte af.
In de grafiek van figuur 10.2 is de waarde van de stroomsterkte uitgezet tegen de ingestelde waarde van de weerstand R_x .



figuur 10.2

Op het antwoordblad is figuur 10.2 nogmaals afgedrukt.

- Teken in figuur 10.2 op het antwoordblad het ontbrekende deel van deze grafiek voor de waarden van R_x tussen 0 en 50 Ω .
- Teken in figuur 10.2 op het antwoordblad ook de grafiek die het verband aangeeft tussen de ingestelde waarde van R_x en de sterkte van de stroom door A_2 .

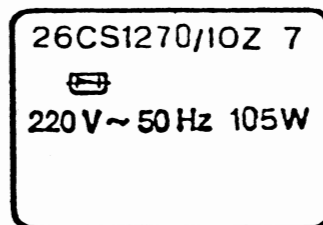
11. WAT KOST HET KIJKEN NAAR DE TV?

Bij Lydia thuis hebben ze een kleurentelevisie gekocht.

Lydia wil nu graag weten wat de kosten zijn van de gebruikte elektrische energie in een week.

De gegevens van de televisie vindt ze op het plaatje achterop het apparaat.

Dit plaatje ziet er zo uit:



figuur 11

Verder weet ze, dat de televisie bij haar thuis gemiddeld 3,5 uur per dag aan staat.

- Hoe groot is het elektrische vermogen van deze televisie?
- Bereken de kosten van de gebruikte energie in een week, als je weet dat 1 kWh 31 cent kost.

EINDE