

EXAMEN MIDDELBAAR ALGEMEEN VOORTGEZET ONDERWIJS IN 1985

MAVO - D

Donderdag 13 juni, 9.00–11.00 uur

Naam:

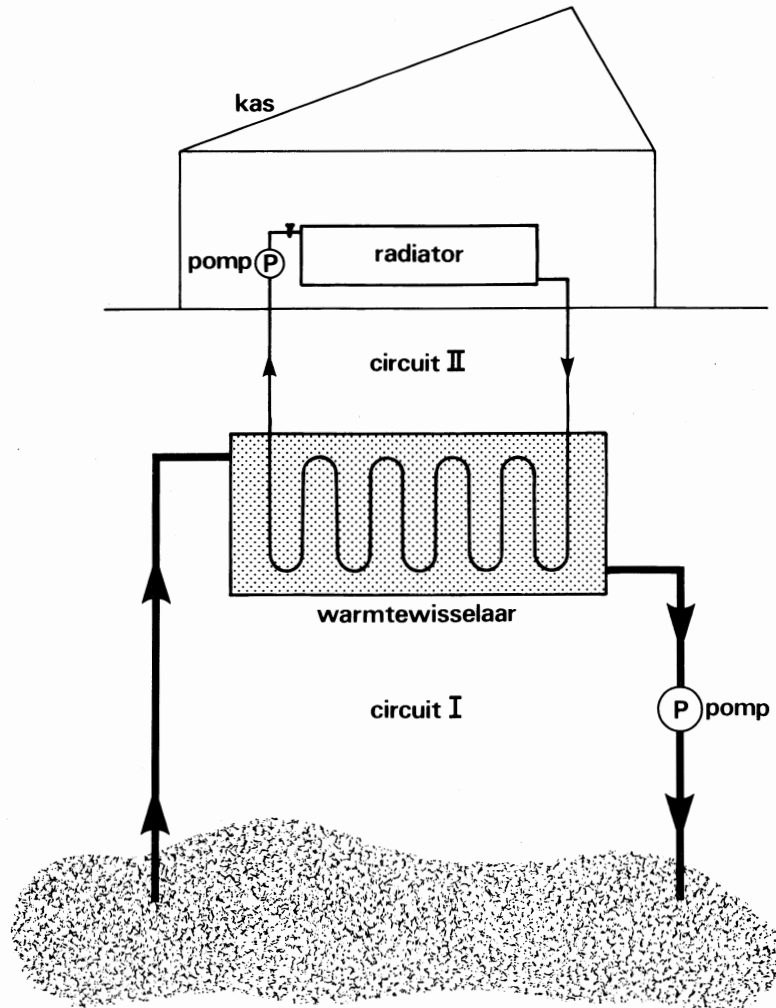
NATUURKUNDE

Examennummer:


Antwoordblad bij de opgaven 6 en 8 (zie achterkant)

Vraag 6.b.

Geef in figuur 6 aan welk gedeelte van circuit II het beste geïsoleerd moet zijn. Dat gedeelte moet je met potlood verdikken.



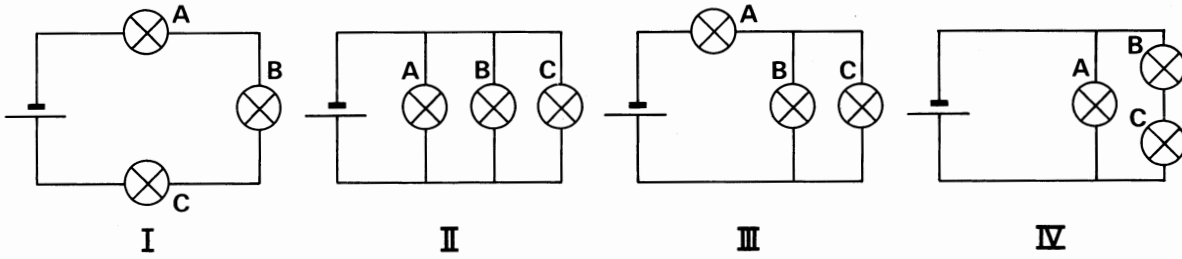
figuur 6



Vraag 8

Ga voor alle acht schakelingen die hieronder staan na welke lampjes niet branden.
Zet een kruis door *alle* lampjes die niet branden. Bijvoorbeeld zo:

Lampje A is losgedraaid.



Lampje B is losgedraaid.

