

EXAMEN MIDDELBAAR ALGEMEEN VOORTGEZET ONDERWIJS IN 1986

D - niveau

Naam:

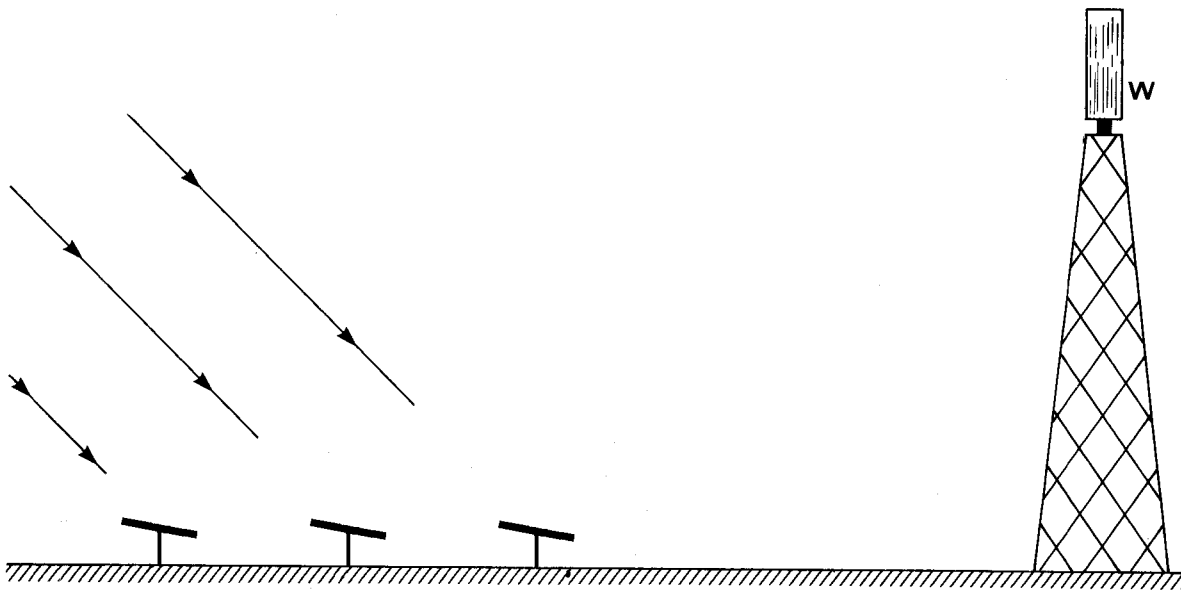
Dinsdag 22 april, 9.00–11.00 uur

Examnummer:


NATUURKUNDE

Antwoordpapier bij de opgaven 5, 11 en 12.

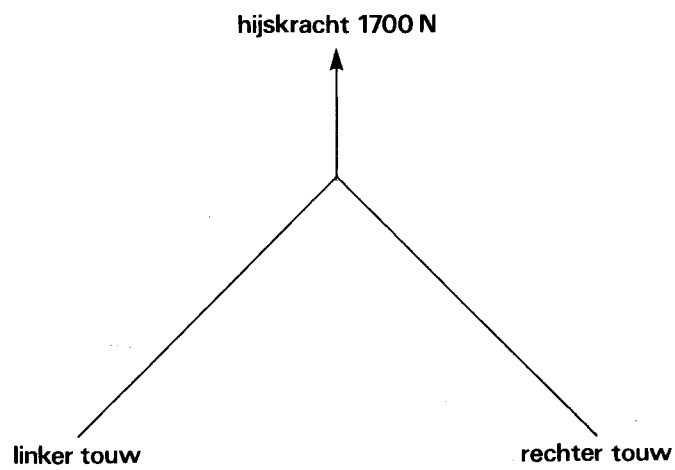
Vraag 5.d.



figuur 5.2



Vraag 11.b.



1 cm komt overeen met
1000 N.

Vul in:

de kracht in het linker touw is

Vragen 12.b.1 en b.2

