

Uitwerkbijlage VMBO-KB
2006

tijdvak 1

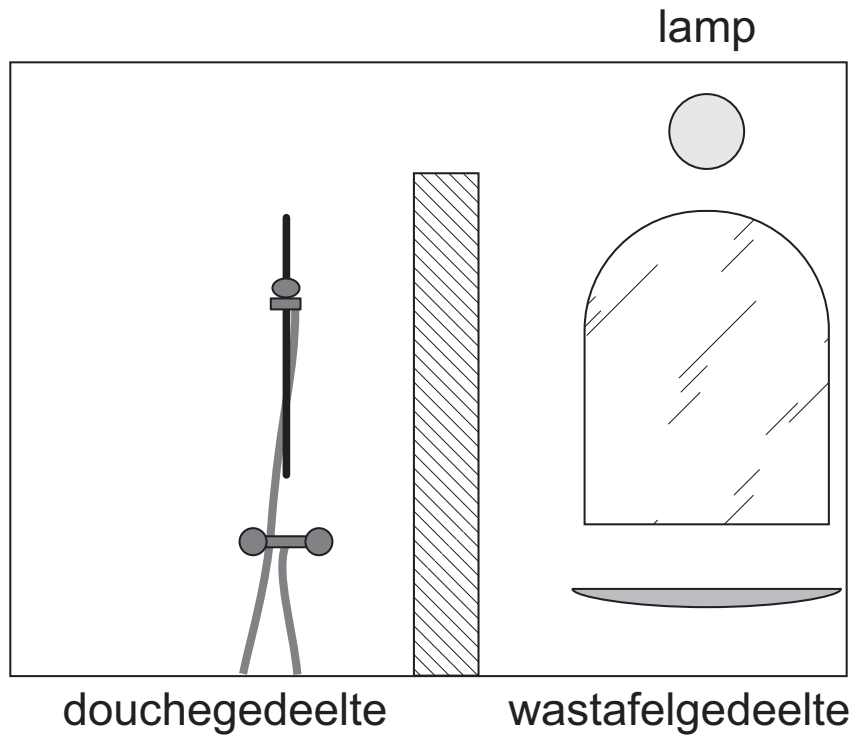
NATUUR- EN SCHEIKUNDE 1 CSE KB

Naam kandidaat _____ Kandidaatnummer _____

VERGEET NIET DEZE UITWERKBIJLAGE IN TE LEVEREN


DONKER DOUCHEN?

3



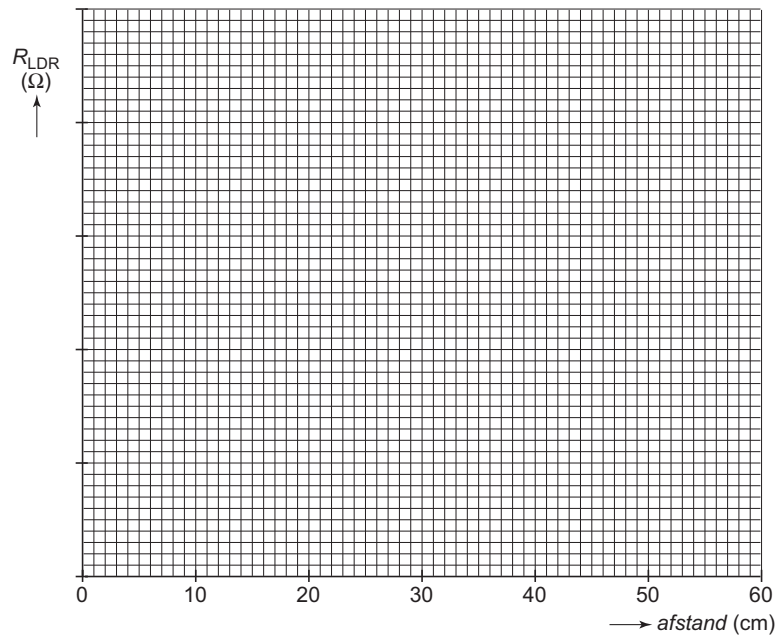
FOTOTOESTEL MET VIER LENZEN

10



PRAKTISCHE OPDRACHT MET LDR

21



FLUISTERASFALT

33 Omcirkel in de onderstaande zinnen de juiste mogelijkheid.

Het geluidsniveau op ZSA is

3
6
16

 dB lager.

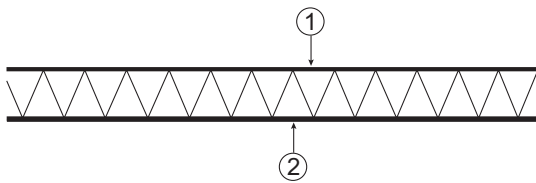
De geluidsenergie op ZSA is

meer dan 2 keer
precies 2 keer
minder dan 2 keer

 zo klein.

TORENKRAAN

41 Omcirkel in de onderstaande zinnen de juiste mogelijkheid.



In de bovenste buis 1 werkt een

trekkracht.

duwkracht.

In onderste buis 2 werkt een

trekkracht.

duwkracht.

VERGEET NIET DEZE UITWERKBIJLAGE IN TE LEVEREN