

uitwerkbijlage

Naam kandidaat _____ Kandidaatnummer _____

Spaarsigaar

3 *Omcirkel in de onderstaande zinnen de juiste mogelijkheid.*

De massa van de auto is klein zodat de

rolwrijvings kracht	luchtwrijvings kracht
--------------------------------	----------------------------------

 klein is.

De auto is klein en glad van vorm zodat de

rolwrijvings kracht	luchtwrijvings kracht
--------------------------------	----------------------------------

 klein is.

Bliksems

13 *Omcirkel in de onderstaande zinnen de juiste mogelijkheid.*

De weerstand van de koperdraden is

groter	kleiner
---------------	----------------

 dan de weerstand van het huis.

Hierdoor gaat de stroom

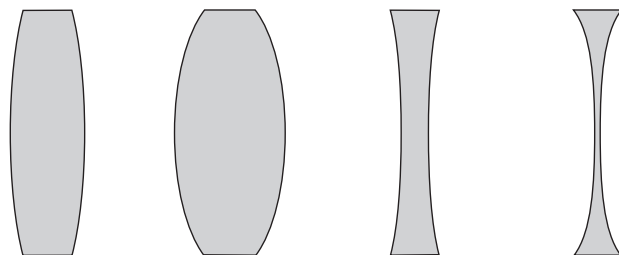
gemakkelijker	moeilijker
----------------------	-------------------

 door de koperdraden naar de aarde.

De stroom

verspreidt zich over de grond.	vloeit weg in de aarde.
---------------------------------------	--------------------------------

23



26 *Omcirkel in de onderstaande zinnen de juiste mogelijkheid.*

Ayisha kan in de verte niet goed zien en dichtbij wel.

Zij is

bijziend.

verziend.

Zij heeft

bolle

holle

lenzen in haar bril nodig.

Daarom moet er bij haar brillenglazen olie

ingepompt

uitgepompt

worden.

Trajectcontrole wapen tegen hardrijden

29 Berekening:

.....

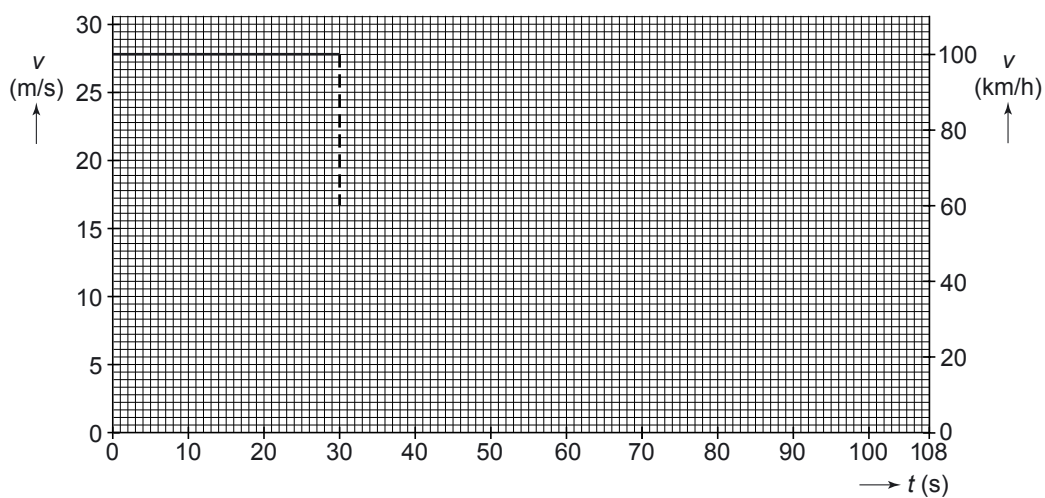
.....

.....

.....

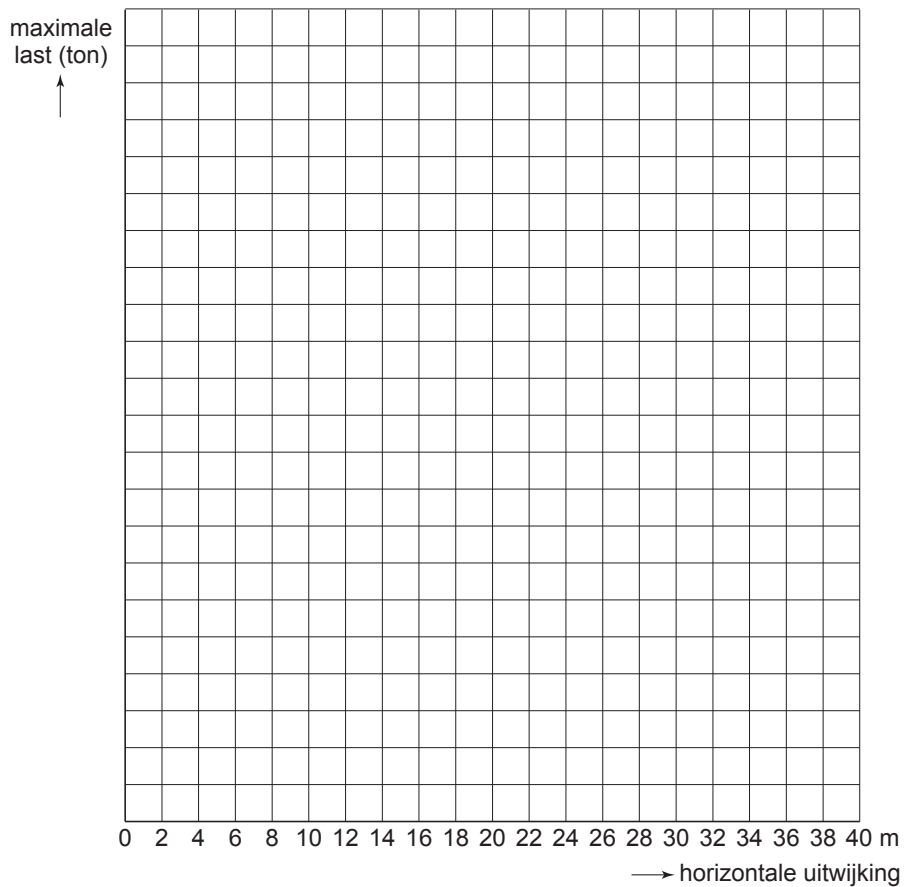
.....

.....



Mobiele kraan

31 en 33



32 Vul in:
De grootte van de maximale last bij een horizontale uitwijking van 24 m =

VERGEET NIET DEZE UITWERKBIJLAGE IN TE LEVEREN