

Uitwerkbijlage VMBO-GL en TL
2006

tijdvak 1

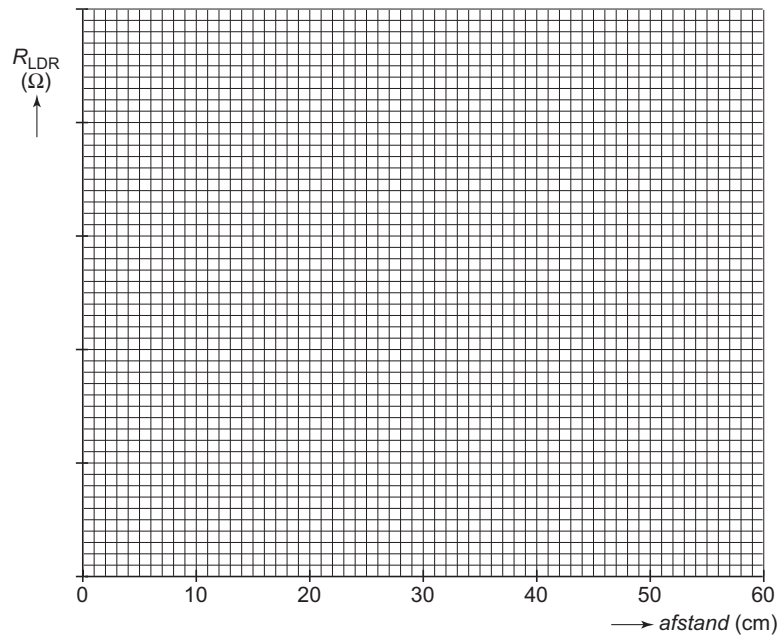
NATUUR- EN SCHEIKUNDE 1 CSE GL EN TL

Naam kandidaat _____ Kandidaatnummer _____

VERGEET NIET DEZE UITWERKBIJLAGE IN TE LEVEREN

PRAKTISCHE OPDRACHT MET LDR

6



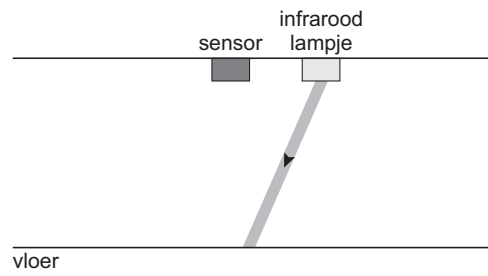
FOTOESTEL MET VIER LENZEN

12



ROBOKID

19



Conclusie:

.....

.....

Uitleg:

.....

.....

.....

FLUISTERASFALT

23 *Omcirkel in de onderstaande zinnen de juiste mogelijkheid.*

Het geluidsniveau op ZSA is

| |
|----|
| 3 |
| 6 |
| 16 |

 dB lager.

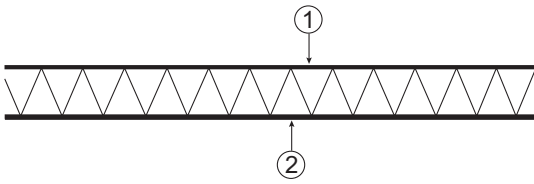
De geluidsenergie op ZSA is

| |
|-------------------|
| meer dan 2 keer |
| precies 2 keer |
| minder dan 2 keer |

 zo klein.

TORENKRAAN

35 Omcirkel in de onderstaande zinnen de juiste mogelijkheid.



In de bovenste buis 1 werkt een

| |
|-------------|
| trekkracht. |
| duwkracht. |

In onderste buis 2 werkt een

| |
|-------------|
| trekkracht. |
| duwkracht. |

VERGEET NIET DEZE UITWERKBIJLAGE IN TE LEVEREN