

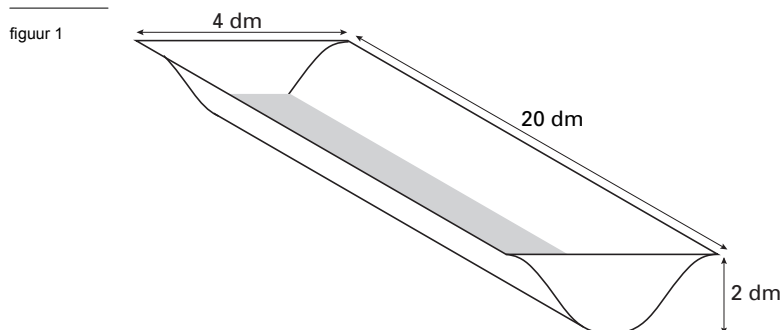
Voor dit examen zijn maximaal 84 punten te behalen; het examen bestaat uit 19 vragen. Voor elk vraagnummer is aangegeven hoeveel punten met een goed antwoord behaald kunnen worden.

Als bij een vraag een verklaring, uitleg of berekening vereist is, worden aan het antwoord meestal geen punten toegekend als deze verklaring, uitleg of berekening ontbreekt.

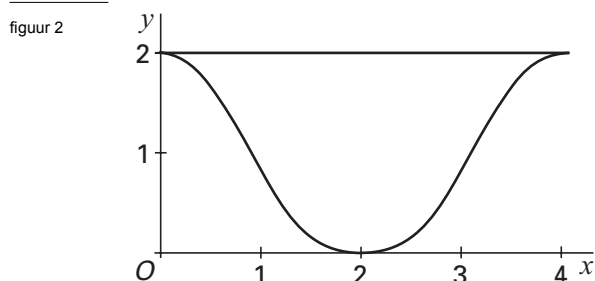
Geef niet meer antwoorden (redenen, voorbeelden e.d.) dan er worden gevraagd. Als er bijvoorbeeld twee redenen worden gevraagd en je geeft meer dan twee redenen, dan worden alleen de eerste twee in de beoordeling meegeteld.

Drinkbak

In figuur 1 staat een tekening van een drinkbak voor dieren. De bak bestaat uit drie delen: een rechthoekige, metalen plaat die gebogen is tot een symmetrische goot, een voorkant en een achterkant die aan de goot gelast zijn. De bak is 20 dm lang, 4 dm breed en 2 dm diep.



In figuur 2 is het vooraanzicht van de goot getekend in een assenstelsel.



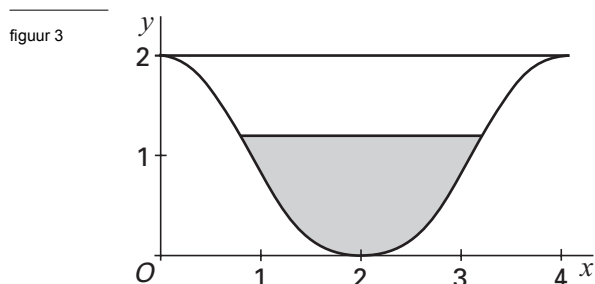
De gebogen vorm van deze goot is de grafiek van de functie:

$$f(x) = -\frac{1}{8}x^4 + x^3 - 2x^2 + 2 \quad (x \text{ en } y \text{ in dm en } 0 \leq x \leq 4)$$

- 4p 1 Toon algebraïsch aan dat de helling van de grafiek van f gelijk is aan 0 voor $x = 0$ en voor $x = 4$.

De waterspiegel heeft de vorm van een rechthoek, waarvan de lengte 20 dm is. De breedte van de waterspiegel varieert met de waterhoogte.

In figuur 3 is in het assenstelsel het vooraanzicht van de bak getekend bij een bepaalde waterhoogte.



- 3p 2 Bereken de waterhoogte als de breedte van de waterspiegel 2,4 dm is.
- 6p 3 Bereken in liters nauwkeurig hoeveel water de bak bevat als hij tot de rand toe gevuld is.
- 5p 4 Bereken in dm^2 nauwkeurig de oppervlakte van de rechthoekige plaat waarvan het gebogen deel van de drinkbak gemaakt is.

Parkeertarief

's Zaterdags gaat Anneke altijd winkelen in de stad. Ze parkeert dan haar auto aan de rand van het centrum. De parkeermeter rekt daar met hele kwartieren en er moet vooraf betaald worden. Elk kwartier of deel daarvan kost € 0,30. Op grond van het lijstje met inkopen die ze wil doen, maakt Anneke een schatting van de tijdsduur voor het parkeren. Door allerlei omstandigheden (onder andere bediening, drukte) is de werkelijke tijdsduur vaak anders.

We nemen aan dat de werkelijke tijdsduur bij benadering normaal verdeeld is, waarbij het gemiddelde gelijk is aan haar schatting; voor de standaardafwijking geldt het volgende: als de schatting t uren bedraagt, dan is de standaardafwijking gelijk aan $\frac{1}{6}\sqrt{t}$ uur.

Op een zaterdag schat Anneke 2,5 uur nodig te hebben voor haar inkopen en doet dus € 3,00 in de parkeermeter.

- 4p **5** Bereken de kans dat achteraf – als ze terugkomt bij haar auto – zal blijken dat ze precies € 0,30 minder in de parkeermeter had mogen doen.

Door bij een schatting van 2,5 uur parkeren € 3,00 in de parkeermeter te doen, loopt Anneke ook het risico dat ze te weinig betaalt.

- 5p **6** Bereken hoeveel geld Anneke ten minste in de meter moet doen, opdat ze minder dan 5% kans loopt dat ze te weinig betaalt.

Als Anneke onvoldoende parkeergeld betaalt, loopt zij kans op een parkeerboete.

Ieder uur heeft elke geparkeerde auto waarvan de parkeertijd verlopen is, een kans van 16% op een parkeerboete. Eenmaal beboet, krijgt een auto geen tweede boete.

- 4p **7** Bereken de kans dat Anneke een parkeerboete krijgt wanneer zij 3 uur lang onbetaald parkeert.

Snijden en schuiven

Voor $x \geq 0$ zijn gegeven de functies $f(x) = x^2$ en $g(x) = 3\sqrt{x}$.

figuur 4

In figuur 4 staat van beide functies een deel van de grafiek getekend.

De grafieken van f en van g sluiten een vlakdeel V in.

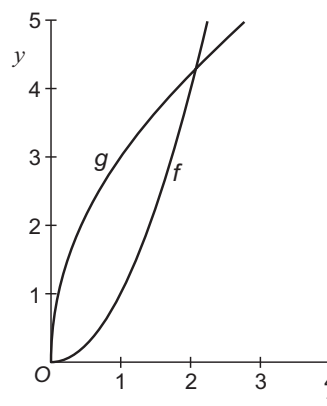
- 5p **8** Bereken de oppervlakte van V .

De verticale lijn $x = a$ snijdt de grafiek van g in het punt A , de grafiek van f in het punt B en de x -as in het punt C . Voor een bepaalde waarde van a ligt B midden tussen A en C .

- 4p **9** Bereken exact voor welke waarde van a dit het geval is.

De grafiek van f wordt omhooggeschoven tot hij raakt aan de grafiek van g .

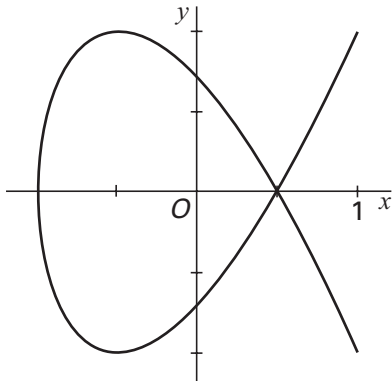
- 6p **10** Bereken met behulp van differentiëren in twee decimalen nauwkeurig hoeveel de grafiek van f dan omhooggeschoven is.



α -baan

De plaats van een bewegend punt P in een assenstelsel wordt gegeven door:
 $x(t) = \cos 2t$ en $y(t) = \cos 3t$, waarbij t de tijd voorstelt, met $0 \leq t \leq \pi$.
De baan van het punt P lijkt op de Griekse letter α . Zie figuur 5.

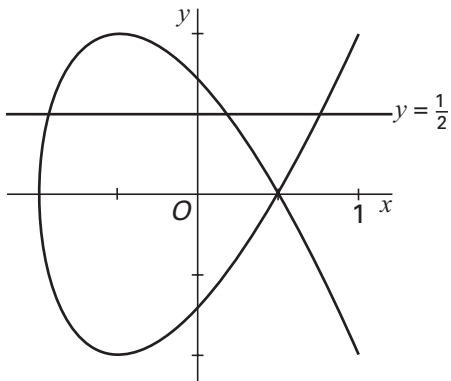
figuur 5



- Op het tijdstip $t = 0$ bevindt P zich in $(1, 1)$, dus even ver van de x -as als van de y -as.
- 4p **11** \square Bereken het eerste tijdstip na $t = 0$ waarop P zich weer even ver van de x -as als van de y -as bevindt.

Tussen $t = 0$ en $t = \pi$ beweegt P één maal over de baan. Gedurende twee tijdsintervallen bevindt P zich boven de lijn $y = \frac{1}{2}$. Zie figuur 6.

figuur 6



- 4p **12** \square Bereken de totale tijd dat P zich boven de lijn $y = \frac{1}{2}$ bevindt.

Tijdens de beweging verandert de snelheid van het punt P .

- 5p **13** \square Onderzoek of de grootste snelheid van het punt P wordt bereikt op het tijdstip $t = \frac{1}{2}\pi$.

Levensduur van chips

In elektronische apparatuur worden veel chips gebruikt. Om de levensduur van chips te bepalen kan men niet gewoon wachten totdat ze stukgaan. Dat kan namelijk wel 20 à 30 jaar duren! Daarom past men zogenaamde stress-methoden toe: men onderwerpt de chips aan extreme omstandigheden, bijvoorbeeld hoge temperatuur, zodat ze sneller stukgaan. Vervolgens kan men de onder extreme omstandigheden gevonden levensduur terugrekenen naar de levensduur onder normale omstandigheden.

Bij hoge-temperatuurstress werkt men met het model van Arrhenius: $g(T) = 1,1 \cdot 10^{-10} \cdot e^{\frac{a}{T}}$. Hierbij is g de levensduur (in jaren), T de temperatuur (in kelvin) en a een constante.

De levensduur van een chip van type A blijkt bij een temperatuur van 373 kelvin 0,1 jaar te zijn.

- 4p **14** Toon door berekening aan dat bij kamertemperatuur (293 kelvin) de levensduur van zo'n chip ongeveer 28 jaar is.

Neem bij de volgende vraag $a = 7700$.

Een gebruiker wil weten hoe snel g bij toenemende temperatuur verandert als $T = 293$.

- 4p **15** Bereken deze snelheid met behulp van differentiëren.

Neem aan dat de levensduur van chips van type B bij gebruik bij kamertemperatuur normaal verdeeld is met een verwachtingswaarde μ van 8,0 jaar en een standaardafwijking σ van 2,0 jaar.

Een klant koopt 500 chips van type B.

- 4p **16** Hoeveel van deze chips zullen naar verwachting binnen 5 jaar stukgaan?

Van de chips van type B vermoedt men dat μ kleiner is dan 8,0 jaar. Om dat te onderzoeken past een laboratorium hoge-temperatuurstress toe op 50 chips van type B.

Als de levensduur van de chips van dit type normaal verdeeld is met $\mu = 8,0$ en $\sigma = 2,0$ dan is de gemiddelde levensduur van de chips bij een steekproef van 50 chips normaal verdeeld

met $\mu = 8,0$ en $\sigma = \frac{2,0}{\sqrt{50}}$.

Met de resultaten van het laboratorium heeft men berekend dat deze chips bij

kamertemperatuur een gemiddelde levensduur van 7,2 jaar gehad zouden hebben.

De aanname dat de levensduur van chips van type B bij gebruik bij kamertemperatuur normaal verdeeld is met een verwachtingswaarde μ van 8,0 jaar en een standaardafwijking σ van 2,0 jaar noemt men de nulhypothese.

- 5p **17** Geeft deze uitkomst van 7,2 jaar voldoende aanleiding om bij een significantieniveau van 1% de nulhypothese te verwerpen?

Let op: de laatste vragen van dit examen staan op de volgende pagina.

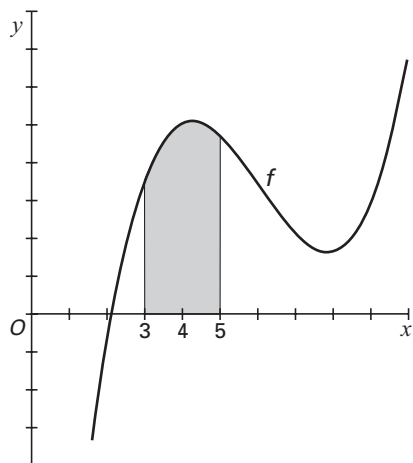
Gemiddelde functiewaarde

In figuur 7 is de grafiek getekend van een functie f .

De gemiddelde functiewaarde van f op het interval $[3, 5]$ is: $\frac{1}{5-3} \cdot \int_3^5 f(x) dx$.

De uitkomst hiervan noemen we $\bar{f}(4)$. Zie figuur 7.

figuur 7



Bij de volgende vraag kiezen we voor f de functie $f(x) = x^2$.

4p **18** Bereken exact de waarde van $\bar{f}(4) - f(4)$.

We kiezen nu voor f de functie $f(x) = p \cdot e^x$.

Voor een bepaalde waarde van p geldt: $\bar{f}(4) = 100$.

4p **19** Bereken deze waarde van p in twee decimalen nauwkeurig.

Einde